

VERIFICA LE CONOSCENZE

1. Indica con una crocetta se le affermazioni sono vere (V) o false (F).

- | | | |
|--|----------------------------|----------------------------|
| a. L'Italia ha un territorio prevalentemente pianeggiante. | <input type="checkbox"/> V | <input type="checkbox"/> F |
| b. La cima più alta delle Alpi è il Gran Sasso d'Italia. | <input type="checkbox"/> V | <input type="checkbox"/> F |
| c. Il monte Cervino si trova nelle Alpi. | <input type="checkbox"/> V | <input type="checkbox"/> F |
| d. I maggiori fiumi italiani scorrono nelle regioni del Nord. | <input type="checkbox"/> V | <input type="checkbox"/> F |
| e. Il Po sfocia nel mar Ligure. | <input type="checkbox"/> V | <input type="checkbox"/> F |
| f. Il Veneto è una regione totalmente pianeggiante. | <input type="checkbox"/> V | <input type="checkbox"/> F |
| g. Il Ticino è un fiume del Nord. | <input type="checkbox"/> V | <input type="checkbox"/> F |
| h. Il Tevere è un fiume dell'Italia settentrionale. | <input type="checkbox"/> V | <input type="checkbox"/> F |
| i. L'Italia è un paese dove in pratica non si sono mai verificati terremoti. | <input type="checkbox"/> V | <input type="checkbox"/> F |
| l. Il maggiore lago italiano è il lago Maggiore. | <input type="checkbox"/> V | <input type="checkbox"/> F |
| m. Numerose sono le lagune lungo le coste venete. | <input type="checkbox"/> V | <input type="checkbox"/> F |
| n. I laghi di Vico e Bracciano sono di origine vulcanica. | <input type="checkbox"/> V | <input type="checkbox"/> F |
| o. Il lago Maggiore è un lago di origine glaciale. | <input type="checkbox"/> V | <input type="checkbox"/> F |
| p. L'Adige sfocia nel mar Adriatico. | <input type="checkbox"/> V | <input type="checkbox"/> F |
| q. Il clima caratteristico di tutta l'Italia è mediterraneo. | <input type="checkbox"/> V | <input type="checkbox"/> F |
| r. Il clima della Sicilia è mediterraneo. | <input type="checkbox"/> V | <input type="checkbox"/> F |
| s. Liguria e Lombardia hanno lo stesso clima. | <input type="checkbox"/> V | <input type="checkbox"/> F |
| t. In Italia non ci sono vulcani attivi. | <input type="checkbox"/> V | <input type="checkbox"/> F |
| u. Gli Appennini costituiscono la dorsale della penisola italiana. | <input type="checkbox"/> V | <input type="checkbox"/> F |
| v. Le aree più ricche di laghi sono quelle prealpine. | <input type="checkbox"/> V | <input type="checkbox"/> F |
| z. Molte regioni italiane sono bagnate dal mare. | <input type="checkbox"/> V | <input type="checkbox"/> F |

2. Indica con una crocetta la risposta giusta.

- | | |
|---|---|
| <p>a. Il paesaggio agricolo è un paesaggio:</p> <p><input type="checkbox"/> a. naturale</p> <p><input type="checkbox"/> b. solo in apparenza naturale</p> <p>b. Tutelare l'ambiente naturale è:</p> <p><input type="checkbox"/> a. impossibile</p> <p><input type="checkbox"/> b. possibile</p> <p>c. La carta è una rappresentazione:</p> <p><input type="checkbox"/> a. approssimata della realtà</p> <p><input type="checkbox"/> b. perfetta della realtà</p> <p>d. La vicinanza del mare:</p> <p><input type="checkbox"/> a. influisce sul clima</p> <p><input type="checkbox"/> b. non ha alcun influsso sul clima</p> <p>e. Il turismo:</p> <p><input type="checkbox"/> a. ha cambiato il paesaggio della montagna</p> <p><input type="checkbox"/> b. ha lasciato integro il paesaggio della montagna</p> | <p>f. Le Alpi e gli Appennini:</p> <p><input type="checkbox"/> a. sono del tutto simili tra di loro</p> <p><input type="checkbox"/> b. sono dissimili tra di loro</p> <p>g. Le città italiane che sorgono lungo i fiumi sono:</p> <p><input type="checkbox"/> a. più di cinque</p> <p><input type="checkbox"/> b. meno di cinque</p> <p>h. Gli Appennini:</p> <p><input type="checkbox"/> a. hanno subito una forte erosione</p> <p><input type="checkbox"/> b. non hanno subito erosioni</p> <p>i. Tutte le coste:</p> <p><input type="checkbox"/> a. restano immutabili nel tempo</p> <p><input type="checkbox"/> b. si modificano nel tempo</p> <p>l. Oggi gli abitanti delle campagne:</p> <p><input type="checkbox"/> a. diminuiscono</p> <p><input type="checkbox"/> b. aumentano</p> |
|---|---|

3. Indica con una crocetta se le affermazioni sono vere (V) o false (F).

- | | | |
|--|----------------------------|----------------------------|
| a. La Lombardia è una delle regioni più ricche d'Italia. | <input type="checkbox"/> V | <input type="checkbox"/> F |
| b. Complessivamente, in Italia, il settore che ha più occupati è l'industria. | <input type="checkbox"/> V | <input type="checkbox"/> F |
| c. La "capitale" dell'industria automobilistica italiana è Torino. | <input type="checkbox"/> V | <input type="checkbox"/> F |
| d. Il riso è un prodotto dell'agricoltura toscana. | <input type="checkbox"/> V | <input type="checkbox"/> F |
| e. Nella riviera adriatica i maggiori centri balneari si concentrano dalle Marche al Friuli. | <input type="checkbox"/> V | <input type="checkbox"/> F |

- | | | |
|--|----------------------------|----------------------------|
| f. Il turismo balneare è una voce economica importante anche per la Liguria e la Versilia (Toscana). | <input type="checkbox"/> V | <input type="checkbox"/> F |
| g. La densità degli abitanti nell'area di Napoli è altissima. | <input type="checkbox"/> V | <input type="checkbox"/> F |
| h. L'autostrada del Sole è una delle vie di comunicazione essenziali d'Italia. | <input type="checkbox"/> V | <input type="checkbox"/> F |
| i. Gli unici aeroporti sono situati a Roma e a Milano. | <input type="checkbox"/> V | <input type="checkbox"/> F |
| l. La Puglia ha un'elevata produzione di olio. | <input type="checkbox"/> V | <input type="checkbox"/> F |
| m. L'agricoltura dell'Emilia Romagna è altamente meccanizzata. | <input type="checkbox"/> V | <input type="checkbox"/> F |
| n. L'allevamento dei suini è tipico del Sud d'Italia. | <input type="checkbox"/> V | <input type="checkbox"/> F |
| o. Genova è uno dei principali porti italiani. | <input type="checkbox"/> V | <input type="checkbox"/> F |
| p. Milano è la "capitale" dell'industria cinematografica. | <input type="checkbox"/> V | <input type="checkbox"/> F |
| q. Gli agrumi sono un tipico prodotto del Sud d'Italia. | <input type="checkbox"/> V | <input type="checkbox"/> F |
| r. Le maggiori industrie del paese sono concentrate al Nord. | <input type="checkbox"/> V | <input type="checkbox"/> F |
| s. Anche nel Sud ci sono industrie. | <input type="checkbox"/> V | <input type="checkbox"/> F |
| t. Firenze è una città d'arte. | <input type="checkbox"/> V | <input type="checkbox"/> F |
| u. Il settore dell'agricoltura è al primo posto per percentuale di occupati in Italia. | <input type="checkbox"/> V | <input type="checkbox"/> F |

4. Scegli la risposta giusta.

- | | | | |
|---|--|---|--|
| a. Verona si trova in:
<input type="checkbox"/> a. Piemonte
<input type="checkbox"/> b. Toscana
<input type="checkbox"/> c. Veneto | c. Pisa si trova in:
<input type="checkbox"/> a. Emilia Romagna
<input type="checkbox"/> b. Toscana
<input type="checkbox"/> c. Abruzzo | e. Potenza si trova in:
<input type="checkbox"/> a. Abruzzo
<input type="checkbox"/> b. Basilicata
<input type="checkbox"/> c. Sicilia | g. Oristano si trova in:
<input type="checkbox"/> a. Umbria
<input type="checkbox"/> b. Calabria
<input type="checkbox"/> c. Sardegna |
| b. Alessandria si trova in:
<input type="checkbox"/> a. Piemonte
<input type="checkbox"/> b. Lombardia
<input type="checkbox"/> c. Valle d'Aosta | d. Viterbo si trova in:
<input type="checkbox"/> a. Lazio
<input type="checkbox"/> b. Marche
<input type="checkbox"/> c. Campania | f. Siracusa si trova in:
<input type="checkbox"/> a. Toscana
<input type="checkbox"/> b. Molise
<input type="checkbox"/> c. Sicilia | |

5. Indica con una crocetta la risposta giusta.

- | | |
|--|---|
| a. Quale delle seguenti regioni non appartiene all'area del Nord-est?
<input type="checkbox"/> a. Piemonte
<input type="checkbox"/> b. Veneto
<input type="checkbox"/> c. Friuli Venezia Giulia | d. Pisa si trova a ovest di:
<input type="checkbox"/> a. Genova
<input type="checkbox"/> b. Savona
<input type="checkbox"/> c. Rimini |
| b. L'Italia confina a est con la:
<input type="checkbox"/> a. Svizzera
<input type="checkbox"/> b. Francia
<input type="checkbox"/> c. Slovenia | e. A sud di Napoli si trova:
<input type="checkbox"/> a. Reggio Calabria
<input type="checkbox"/> b. Isernia
<input type="checkbox"/> c. Ancona |
| c. Firenze, rispetto a Verona, è:
<input type="checkbox"/> a. a est
<input type="checkbox"/> b. a sud
<input type="checkbox"/> c. a nord | f. La Sicilia, rispetto alla Sardegna, è:
<input type="checkbox"/> a. a est
<input type="checkbox"/> b. a nord
<input type="checkbox"/> c. a sud |
| | g. L'isola più a sud è:
<input type="checkbox"/> a. l'isola d'Elba
<input type="checkbox"/> b. l'isola di Lampedusa
<input type="checkbox"/> c. l'isola di Pantelleria |

Nome Cognome Classe Data

6. Abbina ogni clima alle sue caratteristiche.

- | | | |
|-----------------------|--------------------------|---|
| a. Clima alpino | <input type="checkbox"/> | 1. Inverni miti con poche precipitazioni, estati calde e secche |
| b. Clima padano | <input type="checkbox"/> | 2. Inverni freddi e nebbiosi, estati calde e afose |
| c. Clima mediterraneo | <input type="checkbox"/> | 3. Inverni freddi e lunghi, estati fresche e brevi |

7. I termini riportati nella colonna di sinistra hanno un rapporto con quelli della colonna di destra. Abbina in modo corretto i primi ai secondi.

- | | | |
|---------------------|--------------------------|------------------------------|
| a. Po | <input type="checkbox"/> | 1. Roma |
| b. Laguna | <input type="checkbox"/> | 2. Imperia |
| c. Colosseo | <input type="checkbox"/> | 3. Industria automobilistica |
| d. Maschio Angioino | <input type="checkbox"/> | 4. Pisa |
| e. Siena | <input type="checkbox"/> | 5. Verona |
| f. Floricoltura | <input type="checkbox"/> | 6. Monviso |
| g. Torre pendente | <input type="checkbox"/> | 7. Venezia |
| h. Torino | <input type="checkbox"/> | 8. Conca d'Oro |
| i. Palermo | <input type="checkbox"/> | 9. Palio |
| l. Arena | <input type="checkbox"/> | 10. Napoli |

8. Nella colonna di sinistra sono riportate delle micro-regioni. Abbinale in modo corretto alle regioni in cui si trovano, riportate nella colonna di destra.

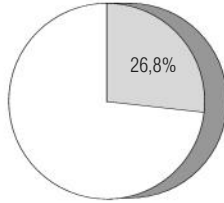
- | | | |
|-----------------|--------------------------|--------------------------|
| a. Chianti | <input type="checkbox"/> | 1. Campania |
| b. Cinque Terre | <input type="checkbox"/> | 2. Toscana |
| c. Cilento | <input type="checkbox"/> | 3. Veneto |
| d. Brianza | <input type="checkbox"/> | 4. Lazio |
| e. Cadore | <input type="checkbox"/> | 5. Puglia |
| f. Ciociaria | <input type="checkbox"/> | 6. Sardegna |
| g. Murge | <input type="checkbox"/> | 7. Friuli-Venezia Giulia |
| h. Marchesato | <input type="checkbox"/> | 8. Liguria |
| i. Carnia | <input type="checkbox"/> | 9. Calabria |
| l. Campidano | <input type="checkbox"/> | 10. Lombardia |

VERIFICA LE COMPETENZE

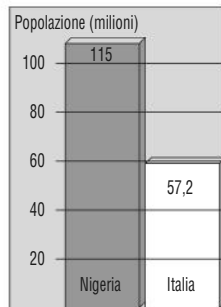
UTILIZZARE GRAFICI E DATI

9. Indica con una crocetta la risposta giusta.

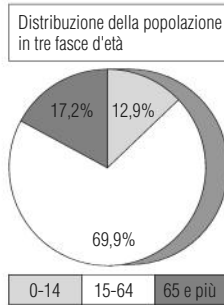
- a. Questo è:
 a. un grafico
 b. un cerchio
 c. un marchio



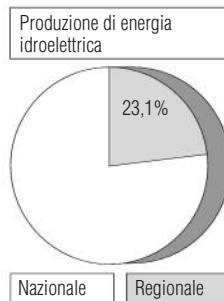
- b. Qui a fianco:
 a. si vede la crescita di una popolazione
 b. c'è un confronto di entità di popolazione
 c. si mostra che l'Africa è più popolosa dell'Europa



- c. La popolazione tra 0 e 14 anni è il:
 a. 17,2%
 b. 12,9%
 c. 69,9%



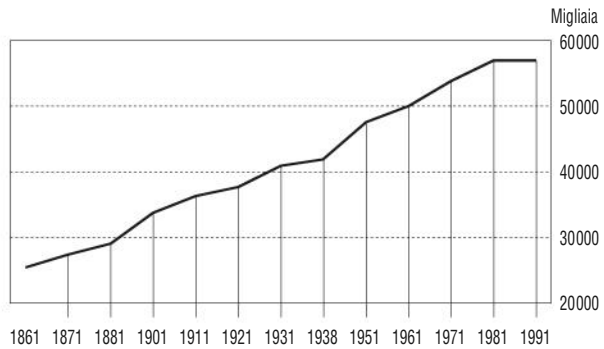
- d. Confronta i dati nazionali con quelli di una regione campione; l'energia idroelettrica prodotta nella regione è, in rapporto a quella nazionale, il:
 a. 100%
 b. 15%
 c. 23,1%



10. Indica con una crocetta la risposta giusta.

Nel 1961 gli abitanti in Italia erano:

- a. 50 milioni
 b. 40 milioni
 c. 30 milioni



UTILIZZARE LE CARTE

11. Indica con una crocetta la risposta giusta.

- a. La località indicata si trova in:
 a. Molise
 b. Basilicata
 c. Puglia

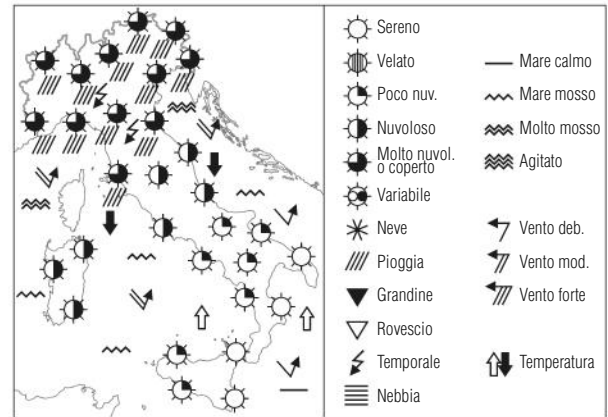


- b. La località indicata si trova tra:
 a. Emilia Romagna e Veneto
 b. Emilia Romagna e Marche
 c. Marche e Abruzzo



Nome Cognome Classe Data

- c. In Sardegna il cielo è:
- a. sereno
 - b. poco nuvoloso
 - c. nuvoloso



12. Osserva attentamente la carta della Lombardia e indica con una crocetta se le affermazioni sono vere (V) o false (F).

- a. Sul parallelo 45° Nord si trova Sabbioneta V F
- b. Anche Voghera è sullo stesso parallelo V F
- c. Cremona è vicina allo stesso parallelo 45° Nord V F
- d. Il parallelo 46° Nord "taglia" il lago di Como V F
- e. Cremona è vicina al meridiano 9° Est V F
- f. Il meridiano 9° Est "passa" tra Varese e Como V F



UTILIZZARE LE PAROLE DEL LINGUAGGIO GEOGRAFICO

13. Indica con una crocetta se le affermazioni sono vere (V) o false (F).

- a. L'estuario è una foce il cui fiume si suddivide in diversi rami. V F
- b. Il promontorio è un'ampia rientranza della costa. V F
- c. La riduzione in scala consiste nel riprodurre su una carta in dimensioni ridotte gli spazi rappresentati. V F
- d. Il parallelo è il semicerchio massimo della sfera terrestre passante per i poli. V F
- e. L'Equatore è il cerchio massimo della sfera terrestre. V F
- f. Il meridiano è la circonferenza ideale tracciata sulla superficie terrestre parallelamente all'Equatore. V F

Verifica le conoscenze

- 1 a. F; b. F; c. V; d. V; e. F; f. F; g. V; h. F; i. F; l. F; m. V; n. V; o. V; p. V; q. V; r. V; s. F; t. F; u. V; v. V; z. V
- 2 a. b; b. b; c. a; d. a; e. a; f. b; g. a; h. a; i. b; l. a
- 3 a. V; b. F; c. V; d. F; e. V; f. V; g. V; h. V; i. F; l. V; m. V; n. F; o. V; p. F; q. V; r. V; s. V; t. V; u. F
- 4 a. c; b. a; c. b; d. a; e. b; f. c; g. c
- 5 a. a; b. c; c. b; d. c; e. a; f. c; g. b
- 6 a. 3; b. 2; c. 1

7 a. 6; b. 7; c. 1; d. 10; e. 9; f. 2; g. 4; h. 3; i. 8; l. 5

8 a. 2; b. 8; c. 1; d. 10; e. 3; f. 4; g. 5; h. 9; i. 7; l. 6

Verifica le competenze

9 a. a; b. b; c. b; d. c

10 a

11 a. c; b. a; c. c

12 a. V; b. V; c. V; d. V; e. F; f. V

13 a. F; b. F; c. V; d. F; e. V; f. F