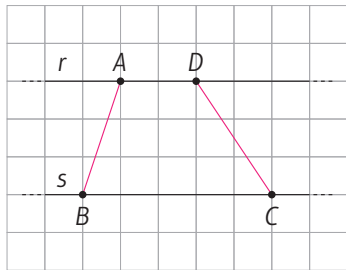
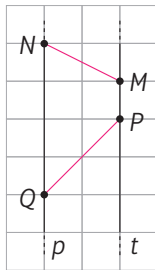


Disegnare un trapezio Segui le istruzioni.

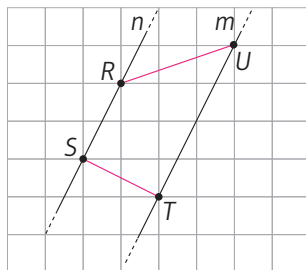
Le rette r e s sono parallele.
Traccia i segmenti AB e DC .



Le rette p e t sono parallele.
Traccia i segmenti NM e PQ .



Le rette n e m sono parallele.
Traccia i segmenti RU e ST .



I quadrilateri che hai disegnato hanno due soli lati paralleli e si chiamano **trapezi**.