

scheda

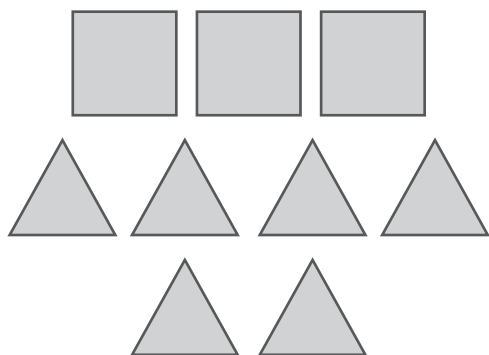
5

NOME

CLASSE

PIÙ E MENO

1. OSSERVA I DISEGNI E SCRIVI L'OPERAZIONE CHE RISPONDE A OGNI DOMANDA.




QUANTE SONO LE FIGURE IN TUTTO?

..... + =

QUANTI SONO I QUADRATI?

..... - =

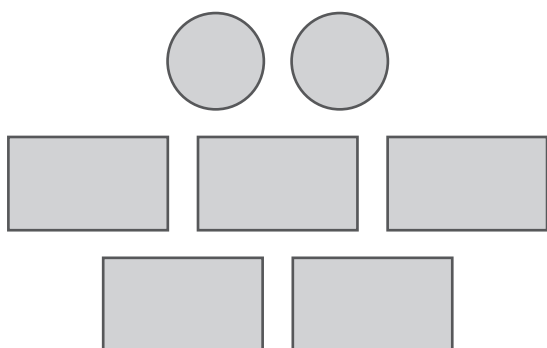


QUANTE SONO LE FIGURE IN TUTTO?

..... + =

QUANTE SONO LE STELLE?

..... - =

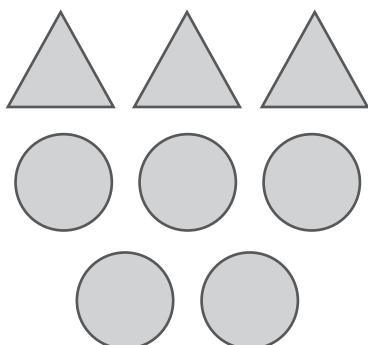


QUANTE SONO LE FIGURE IN TUTTO?

..... + =

QUANTI SONO I CERCHI?

..... - =



QUANTE SONO LE FIGURE IN TUTTO?

..... + =

QUANTI SONO I TRIANGOLI?

..... - =