

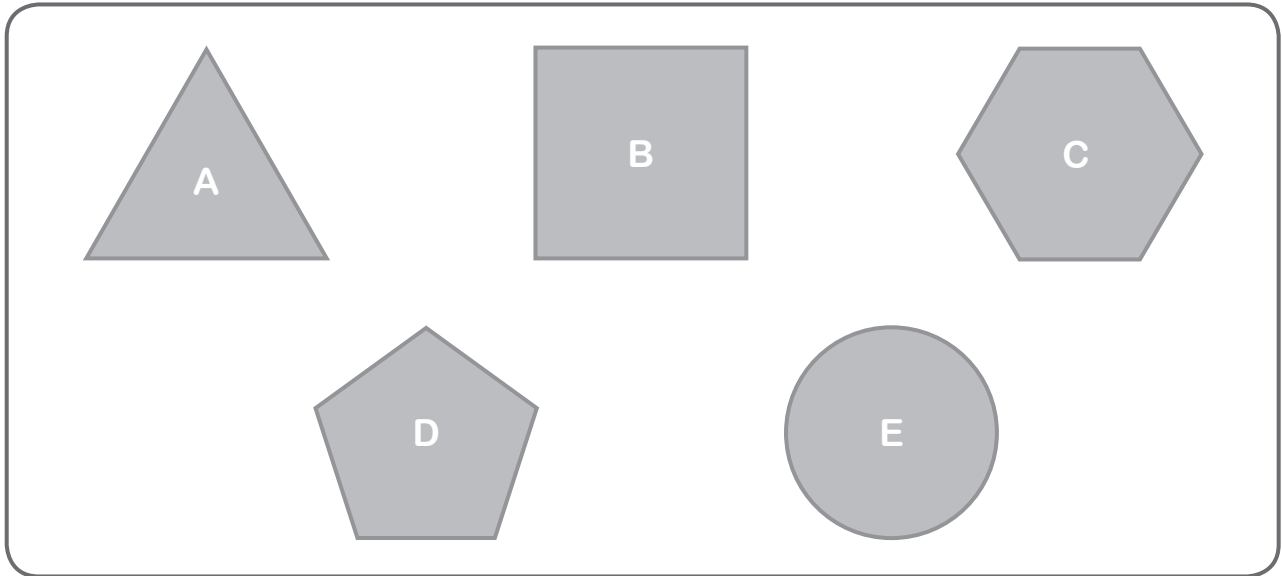
scheda

**5**

NOME .....

CLASSE .....

**1.** Osserva le figure e segna con una X il nome dei poligoni.  
Poi rispondi alle domande.



Poligono **A**

Quadrilatero

Triangolo

Poligono **B**

Quadrilatero

Esagono

Poligono **C**

Triangolo

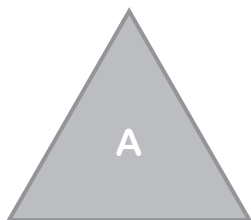
Esagono

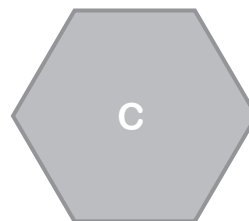
Poligono **D**

Pentagono

Quadrilatero

**2.** Quale tra le figure A e C non ha i lati paralleli?






**3.** Tra le figure del disegno c'è un non poligono? Se sì, qual è?  
Aiutati contando i lati.

.....