

scheda

59

NOME



CLASSE

PROBLEMI (1)

1. Leggi, risolvi calcolando a mente e scrivi il risultato nel cartellino.

a. Marta ha 25 magneti rotondi, 15 quadrati e 16 rettangolari.


Quanti magneti possiede Marta?



b. Giulia mette le sue 96 biglie in 3 sacchetti, dividendole in parti uguali. Quante biglie mette in ogni sacchetto?


c. La nonna di Renzo ha 99 anni, quella di Rita ne ha 76.

Quanti anni hanno di differenza?



d. Il salumiere Giorgio sta contando i suoi prosciutti: ce ne sono 6 su ognuno dei 12 scaffali del magazzino.

Quanti sono i prosciutti di Giorgio?



e. Enrico e Carla organizzano un viaggio in moto, suddiviso in tre tappe: nella prima tappa percorreranno 120 km, nella seconda 145 km, nella terza 135 km.

Quanto è lungo in tutto il percorso?

