

scheda

2





NOME

CLASSE

PUNTI DI VISTA E COORDINATE

1. Osserva e svolgi le attività.



3			
2			
1			
	A	B	C



- Descrivi il tavolo del punto di vista di Luisa.

.....

- Descrivi il tavolo dal punto di vista di Andrea.

.....

- Scrivi le coordinate degli oggetti.



(.....,)



(.....,)



(.....,)



(.....,)