

scheda

49

NOME

CLASSE

IL CORPO UMANO

1. Osserva le immagini e collega i nomi al posto giusto.

Scapola

Frontale

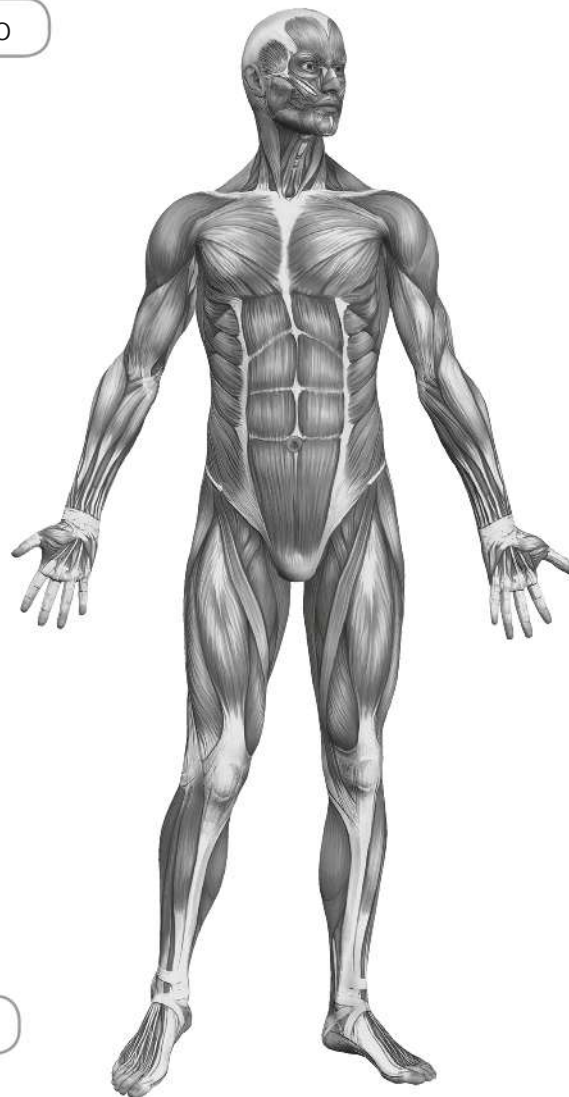
Rotula

Femore

Bicipite

Mascella

Sistema scheletrico



Sistema muscolare

Quadricipite

Clavicola

Addominali

Cranio

Colonna vertebrale

Gabbia toracica

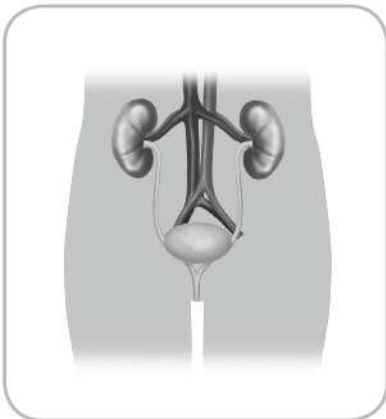
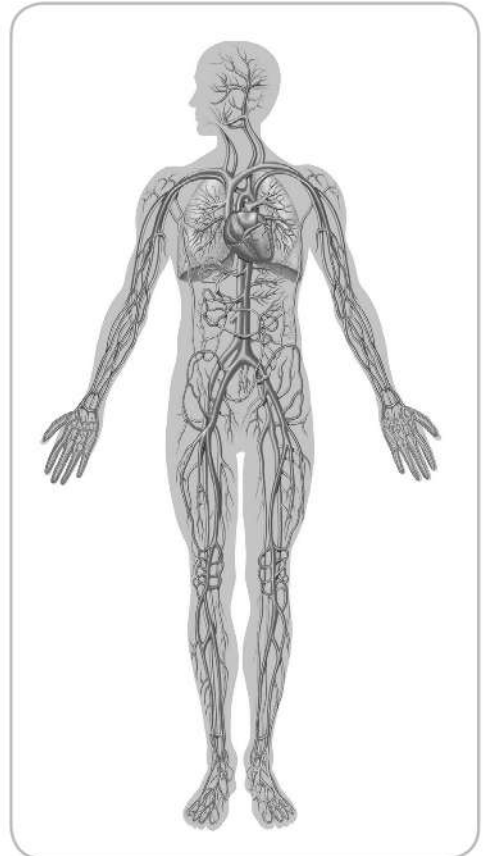
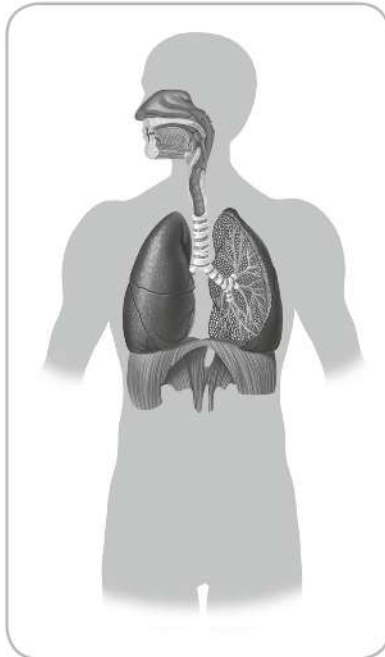
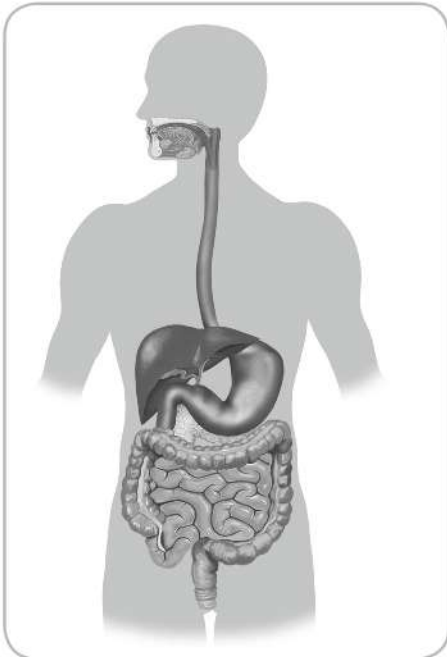
scheda

49

NOME

CLASSE

2. Osserva le immagini. Poi collega ogni apparato al disegno giusto.



- Apparato digerente
- Apparato escretore
- Apparato circolatorio
- Apparato respiratorio

3. A quale apparato appartengono questi organi? Riscrivili al posto giusto nella tabella.

capillari • cuore • esofago • intestino • naso • polmoni • reni
 stomaco • trachea • ureteri • arteria aorta • vescica

Apparato digerente	Apparato escretore	Apparato circolatorio	Apparato respiratorio
.....
.....
.....