

scheda


5

NOME .....


CLASSE .....

# CHE ORE SONO?


Osserva.




SONO LE  
10 IN PUNTO.



SONO LE 10 E 15. SI  
DICE ANCHE LE 10 E  
UN QUARTO.




SONO LE 10 E 30. SI  
DICE ANCHE LE 10 E  
MEZZO.




SONO LE 10 E 45.  
SI DICE ANCHE LE  
10 E TRE QUARTI.

## 1. Ora prova tu.




SONO LE .....

SI DICE ANCHE LE .....




SONO LE .....

SI DICE ANCHE LE .....



SONO LE .....


SI DICE ANCHE LE .....




SONO LE .....

SI DICE ANCHE LE .....


## 2. Osserva ogni orologio e indica con una X che ore sono.



- SONO LE DUE.  
 SONO LE DUE E DIECI.



- SONO LE DIECI E VENTI.  
 SONO LE TRE E TRE QUARTI.



- SONO LE TRE E UN QUARTO.  
 SONO LE NOVE E UN QUARTO.