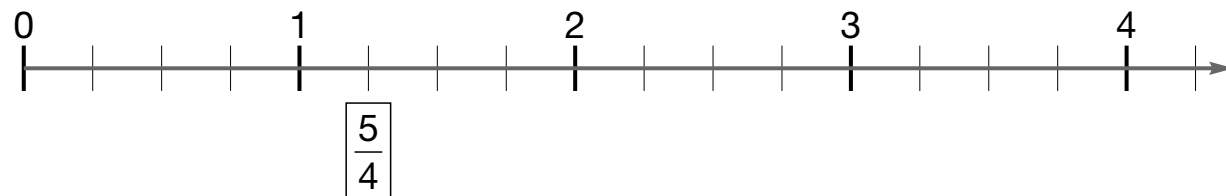
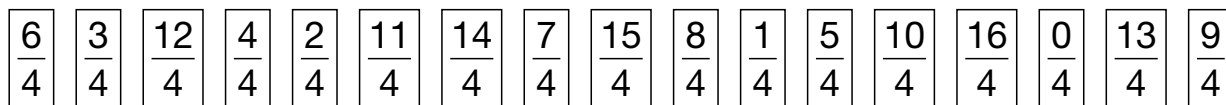


Proprie, improprie o apparenti?

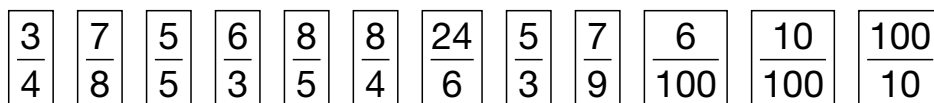
1 - Colloca sulla linea dei numeri le frazioni date, come nell'esempio.




2 - Osserva la linea dei numeri e poi classifica le frazioni secondo le indicazioni.

- frazioni proprie
- frazioni apparenti
- frazioni improprie

3 - Colora di rosa i riquadri con le **frazioni proprie**, di azzurro quelli con le frazioni **apparenti** e di giallo quelli con le frazioni **improprie**.

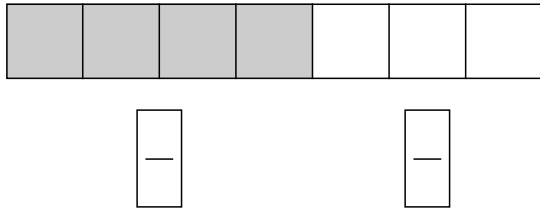


4 - Rappresenta le frazioni date con un disegno.




Frazioni complementari

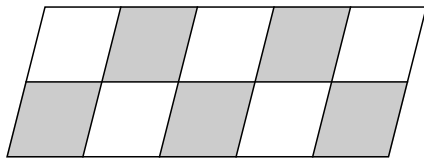
1 - Osserva la parte colorata e la parte bianca dell'intero. Scrivi sotto a ognuna di esse le relative frazioni e rispondi.



$$\frac{4}{7} + \frac{\quad}{7} = \frac{\quad}{\quad} = 1$$

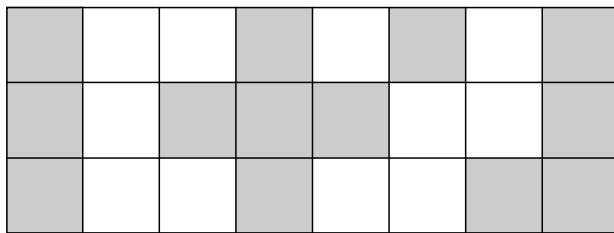


• Quale parte devi colorare per completare la striscia? _____



$$\frac{\quad}{\quad} + \frac{\quad}{\quad} = \frac{\quad}{\quad} = 1$$

• Quale parte devi colorare per completare la striscia? _____



$$\frac{\quad}{\quad} + \frac{\quad}{\quad} = \frac{\quad}{\quad} = 1$$

• Quale parte devi colorare per completare la striscia? _____

2 - Completa la tabella.

frazione	$\frac{5}{7}$	$\frac{3}{8}$	$\frac{7}{13}$	$\frac{21}{41}$	$\frac{37}{50}$	$\frac{4}{4}$	$\frac{19}{32}$	$\frac{0}{5}$	$\frac{12}{25}$
frazione complementare	$\frac{2}{7}$	—	—	—	—	—	—	—	—

3 - Risolvi.

• Ho versato $\frac{3}{4}$ di tè alla pesca nei bicchieri.



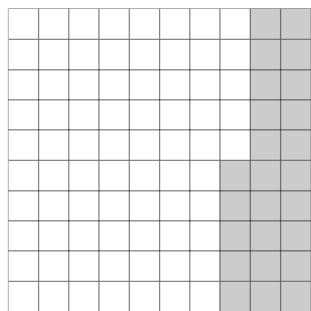
Quale frazione di tè alla pesca è rimasta nella bottiglia?

• Ho percorso $\frac{2}{3}$ della strada che conduce a casa della nonna.

Quale frazione di strada devo ancora percorrere?

Frazione e percentuale

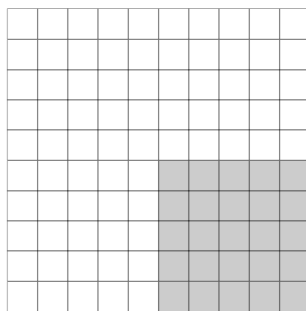
1 Osserva e completa, come nell'esempio, poi completa le frasi.



Ho colorato il 25%

$$\frac{25}{100} = \frac{1}{4}$$


25% è $\frac{1}{4}$



Ho colorato il

$$\boxed{\quad} = \boxed{\quad}$$

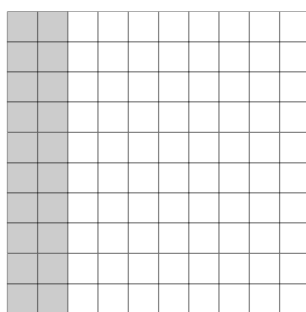
..... è $\boxed{\quad}$



Ho colorato il

$$\boxed{\quad} = \boxed{\quad}$$

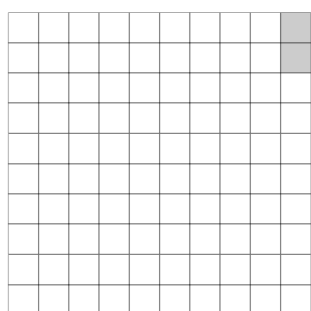
..... è $\boxed{\quad}$



Ho colorato il

$$\boxed{\quad} = \boxed{\quad}$$

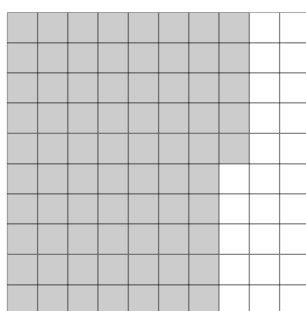
..... è $\boxed{\quad}$



Ho colorato il

$$\boxed{\quad} = \boxed{\quad}$$

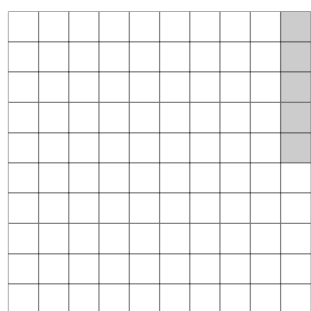
..... è $\boxed{\quad}$



Ho colorato il

$$\boxed{\quad} = \boxed{\quad}$$

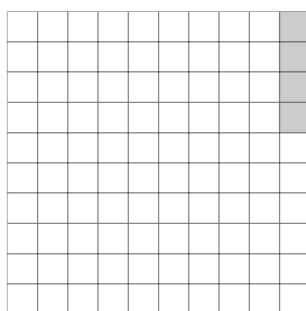
..... è $\boxed{\quad}$



Ho colorato il

$$\boxed{\quad} = \boxed{\quad}$$

..... è $\boxed{\quad}$



Ho colorato il

$$\boxed{\quad} = \boxed{\quad}$$

..... è $\boxed{\quad}$

• La percentuale è una frazione con denominatore

