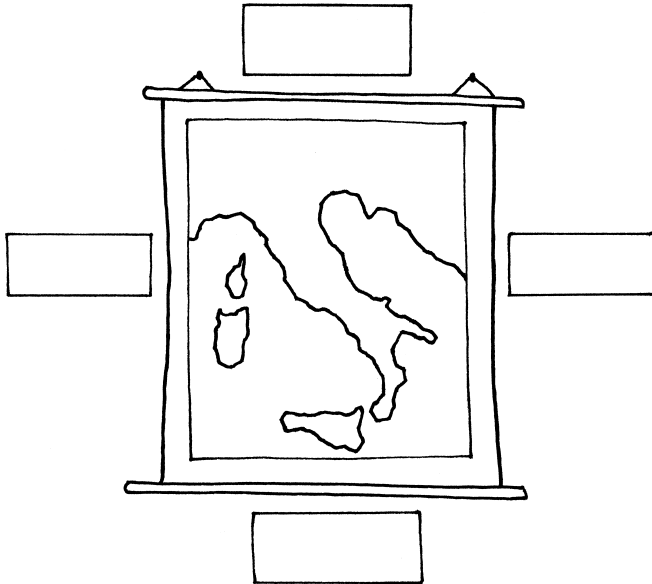


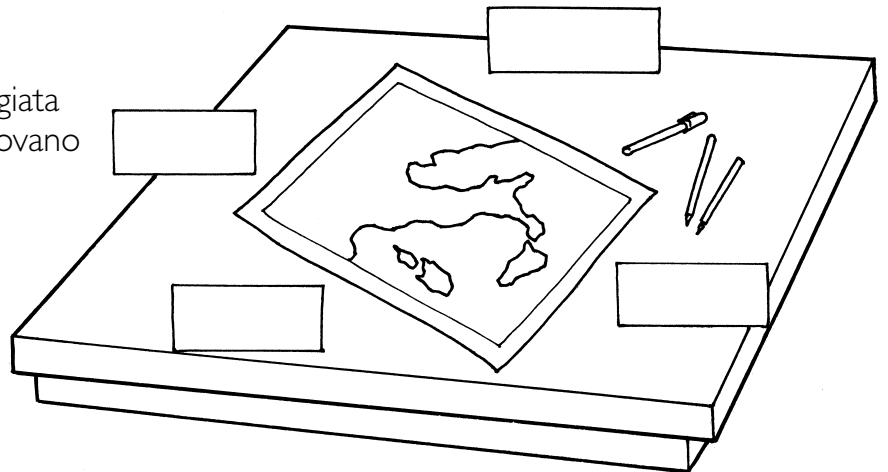
## L'orientamento delle carte

- 1 Osserva i due disegni e scrivi nei riquadri dove si trovano i quattro punti cardinali.



Nella carta appesa al muro, dove si trovano il nord, l'est, l'ovest e il sud?

Nella una carta poggiata sul banco, dove si trovano il nord, l'est, l'ovest e il sud?



- 2 Rispondi alle domande.

In una cartina, il nord si trova sempre .....

Osservando una cartina appesa al muro:

se mi dirigo verso nord, guardo verso .....

se mi dirigo verso sud, guardo verso .....

se mi dirigo verso ovest, guardo verso .....

se mi dirigo verso est, guardo verso .....

## Rilievi e profondità

- 1 - Assegna a ogni parte della carta geografica il colore corrispondente, seguendo le indicazioni della legenda.

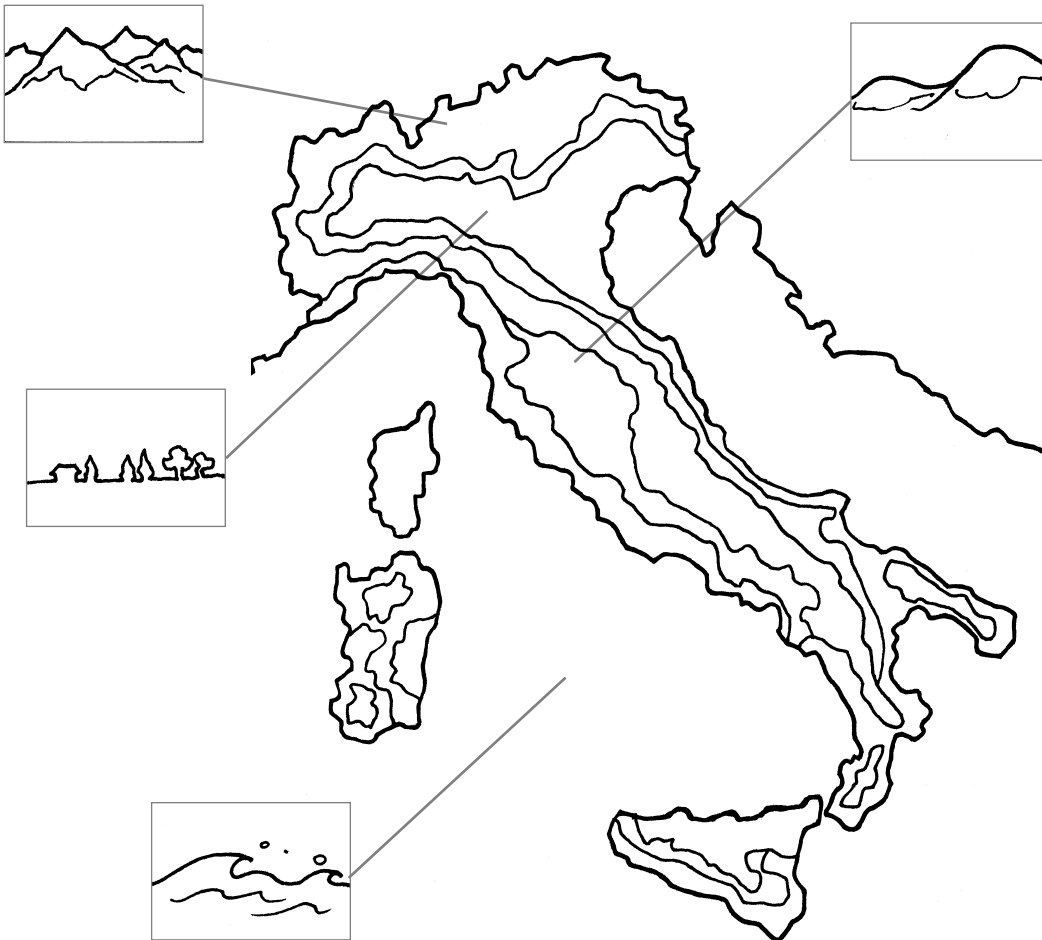
montagna = marrone

basso fondale = celeste

collina = giallo

alto fondale = blu

pianura = verde



- 2 - Assegna a ogni descrizione il nome corrispondente.

batimetria • altimetria

..... significa "misurazione della profondità": viene dal greco "bàti" = profondo e "metria" = misurazione

..... significa "misurazione dell'altitudine": viene dal latino "altu" = elevato e dal greco "metria" = misurazione